



# Wij Waalre DorpsQuiz

[www.wijwaalredorpsquiz.nl](http://www.wijwaalredorpsquiz.nl)

## 5. Over de grens



## 5.1 Kenmerken land

5.1.1 Welk land voldoet aan de beschrijving?

**Beschrijving:**

- Het wegennet in dit land heeft een totale lengte van 29.600 km.
- Het land ligt voor de helft op een hoogte van meer dan 3000 meter
- 90% van de inwoners van het land is aanhanger van de islam.

Tadzjikistan

## 5.2 Vormen van gemeenten

Een gemeente is een groep van woonkernen (dorpen, steden) met het bijbehorende gebied die samen worden bestuurd door een politiek apparaat. De gemeente is in de meeste landen de onderste laag uit het politieke bestuursstructuur.

5.2.1 Welke gemeente in Brabant heeft deze vorm?



1. Bladel



2. Valkenswaard



3. Helmond



4. Uden



5. St. Antonis



### 5.3 Coördinaten van plekken en gebouwen

5.3.1 Zet de juiste letter bij de foto's voor 1 punt. Geef de juiste locatie voor nog 1 punt per vraag.

- A. 161678,49 ; 383736,98
- B. 162884,31 ; 378082,94
- C. 40.689152, -74.044651
- D. 51.442007, 5.467192
- E. 29.978793, 31.134529

- F. 9F379FR6+PQ
- G. -33.962634, 18.410140
- H. 9F379FWG+42
- I. 51.381125, 5.443202
- J. 158942,61 ; 377498,30



1. J  
Willibrorduskerk



2. F  
Het Huis v Waalre



3. E  
Piramide v Cheops



4. C  
Vrijheidsbeeld



5. G  
Tafelberg



6. A  
CS Eindhoven



7. D  
PSV stadion



8. H  
Den Hof



9. J  
Loonderweg



10. B  
Hutdijk/Meeuwven

## 5.4 Klederdracht

5.4.1 Uit welk land komt deze klederdracht?



1. Noorwegen



2. Nederland



3. Lapland



4. Schotland



5. Albanië



6. Kenia en Tanzania (Masai)



## 5.5 Dure winkelstraten

Een dagje shoppen, daar kun je de meeste dames wel blij mee maken. Maar wat dat niet kost! Zeker in deze bekende winkelstraten.

5.5.1 Herken jij ze? Geef straat en plaats.



1. 5th Avenue New York



2. Rodeo Drive Beverly Hills



3. Via Monte Napoleone Milaan



4. Bond Street Londen

## 5.6 Naar welk land gaan we?

5.6.1 Waar zullen we dit jaar weer eens op vakantie gaan? Naar welk land gaan we? Onze TOPO is niet zo goed... en hebben we de atlas wel recht gehouden?



1. Filipijnen



2. Irak



3. Kenia



4. Letland



5. Luxemburg



6. Slowakije



7. Somalie



8. Suriname

## 5.7 Welk hemellichaam is dit?

De Aarde (soms de wereld of Terra genoemd) is vanaf de Zon gerekend de derde planeet van ons zonnestelsel. Hierin behoort ze tot de naar haar genoemde "aardse planeten", waarvan ze zowel qua massa als qua volume de grootste is. Maar in het zonnestelsel en verder het heelal in zijn nog meer objecten.

5.7.1.1 Wat voor soort hemellichaam is dit?

De Maan

5.7.1.2 Wat is de naam?

Charon

5.7.1.3 Welke diameter heeft dit object (km)?

1200 - 1210

5.7.1.4 Bij welk ander hemellichaam bevindt dit object zich?

Pluto



5.7.2.1 Wat voor soort hemellichaam is dit?

Maan

5.7.2.2 Wat is de naam?

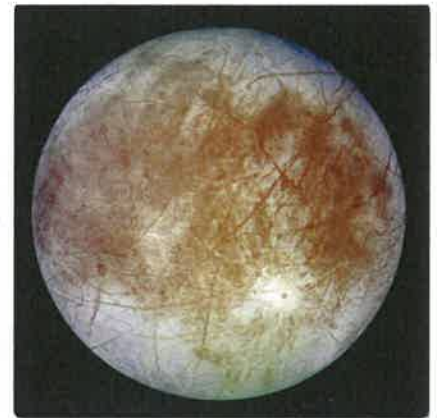
Europa

5.7.2.3 Welke diameter heeft dit object (km)?

3100 - 3150

5.7.2.4 Bij welk ander hemellichaam bevindt dit object zich?

Jupiter



5.7.3.1 Wat voor soort object is dit?

Ruimtesonde

5.7.3.2 Wat is de naam?


New Horizons

5.7.3.3 Hoe zwaar is het object met en zonder brandstof (kg)?

385

5.7.3.4 Waar bevindt dit object zich nu?

Kuiper gordel





5.7.4.1 Wat voor soort object is dit?

Stergroep / sterrenwolk / satellietstelsel Melkweg

5.7.4.2 Wat is de naam?

Kleine Magelhaense wolk

5.7.4.3 Wat is het schijnbare gewicht (in zonnemassa's)?

1 miljard

5.7.4.4 In welk sterrenbeeld bevindt dit object zich?

Toekan / Tucana



5.7.5.1 Wat voor soort object is dit?

Neutronenster

5.7.5.2 Wat is de naam?

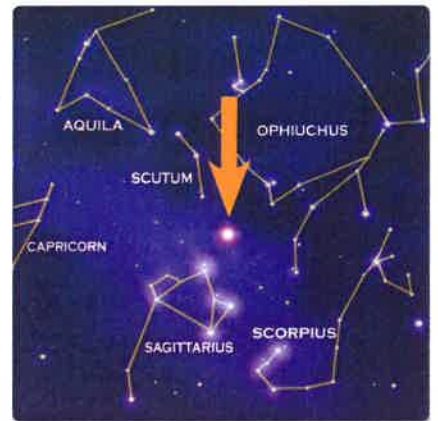
Magnetar SGR 1806-20

5.7.5.3 Hoe ver staat dit object van de aarde (in lichtjaren)?

50.000

5.7.5.4 In welk sterrenbeeld bevindt dit object zich?

boogschutter



## 5.8 Wat onder de grond ligt vergaat niet

Archeologie (samenst. Grieks: ἀρχαῖος – λόγος : 'leer der oudheid') of oudheidkunde is de wetenschap die overblijfselen van oude culturen bestudeert teneinde het verleden te reconstrueren en te duiden. Meer iets voor in Griekenland en Egypte zou je denken. Maar ook in onze omgeving worden soms archeologische ontdekkingen gedaan.

5.8.1 Welk markant beeldbepalend pand in een naburige plaats werd rond 1718 gesloopt?

Kasteel Gagelbosch

5.8.2 Welk object werd daar nadien teruggevonden?

Volkswagen Kever

5.8.3 Uit welke eeuw stamde dit object?

20<sup>e</sup>





5.8.4 Op de hierboven getoonde foto, geplaatst in het Eindhovens Dagblad, is een opgraving te zien. In welk dorp werd deze opgraving gedaan?

Oerle / Veldhoven

5.8.5 En in welk jaar werd deze opgraving gedaan?

2008

5.8.6 Wat werd er bij deze opgraving gevonden?

Een waterput

5.8.7 Uit welke eeuw stamt de vondst?

100 jaar N.Chr. 1<sup>e</sup> eeuw / 2<sup>e</sup> eeuw

## 5.9 Ik fiets mij een ongeluk

5.9.1 Jan uit Waalre en Henri uit Aalst gaan vaak bij elkaar op bezoek. Omdat ze op slechts 3 km van elkaar wonen, nemen ze daar altijd de fiets voor. Op een gegeven moment besluiten ze beiden om naar elkaar te gaan. Jan vertrekt uit Waalre en Henri vertrekt op hetzelfde moment uit Aalst.

Ze fietsen dezelfde weg. De weg gaat eerst omhoog, maar Jan kan het eerste stuk slechts de helft zo snel als Henri, omdat het hoogste punt vanaf Waalre op slechts een derde van de route ligt (het hoogste punt van de route ligt vlak bij het blokven). En hoewel ze beiden op ongeveer 22 meter hoogte starten en het hoogste punt slechts 23 meter hoog is, voelen de heren dit goed in de kuiten.

a. Waar komen de heren elkaar tegen (in meters gerekend vanuit Waalre)?

Bij het Blokven 1000 meter van Waalre

b. Wie is er het eerst bij de ander zijn huis, Jan of Henri?

Henri. Na  $\frac{2}{3}$  sterkere daling

## 5.10 Hoeveel driehoeken?

5.10.1 Hieronder staan 9 "Wij Waalre Dorpsquiz- logo's".  
Hoeveel driehoeken zijn er te maken met deze 9 logo's?

76

